

SERTİFİKA  
TÜRÜ

**A1-A2**

160220081100

1. GRUP

T.C.  
**MİLLÎ EĞİTİM BAKANLIĞI**  
EĞİTİM TEKNOLOJİLERİ GENEL MÜDÜRLÜĞÜ  
Ölçme Değerlendirme ve  
Açıköğretim Kurumları Daire Başkanlığı

**KİTAPÇIK TÜRÜ**

**Z**

## MOTORLU TAŞIT SÜRÜCÜ ADAYLARI SINAVI SORU KİTAPÇIĞI

Adayın Adı ve Soyadı :  
Aday Numarası :

**DİKKAT:** 1. Size verilen soru kitapçığının sertifika türü, almak istediğiniz sertifika türüyle aynı değilse salon görevlilerini uyararak soru kitapçığının doğru kitapçıkla değiştirilmesini sağlayınız.  
2. Soru kitapçıklarını kontrol ederek, baskı hatası olan kitapçığın değiştirilmesi için salon görevlilerine başvurunuz.  
3. Soru kitapçığındaki açıklamaları okuyunuz.  
4. Sınavda yanlarında cep telefonu, çağrı cihazı vb. iletişim araçları bulunduran adayların sınavları iptal edilecektir.  
5. Sınav giriş belgesini sınav bitiminde soru kitapçığı ve cevap kâğıdı ile birlikte salon görevlilerine teslim ediniz.  
6. Sınav saat 11.00'de başlayıp 13.00'te biter. Sınav başladıktan sonra ilk 45 dakika içinde hiçbir aday salondan çıkamaz.

### CEVAP KÂĞIDI İLE İLGİLİ AÇIKLAMALAR

1. Cevap kâğıdına kodlanmış olarak verilen kitapçık türü ile size verilen kitapçık türünün aynı olmasına dikkat ediniz. Aynı değilse salon görevlilerini uyarınız.
2. Size verilen cevap kâğıdında yazılı olan bilgilerin size ait olup olmadığını kontrol ediniz.
3. Cevap kâğıdı üzerine yazacağınız yazı ve yapacağınız işaretlemelerde kurşun kalemden başka kalem kullanmayınız.
4. Cevap kâğıdında **İLK YARDIM BİLGİSİ, TRAFİK ve ÇEVRE BİLGİSİ, MOTOR ve ARAÇ TEKNİĞİ BİLGİSİ** testleri için üç ayrı bölüm bulunmaktadır. Cevaplarınızı cevap kâğıdındaki ilgili bölümlere aşağıdaki örnekte olduğu gibi yuvarlağı, dışına taşırmadan işaretleyiniz. **Soru kitapçığı üzerinde yapılan cevaplandırmalar dikkate alınmaz.** Yanlış karalamalarınızı düzeltirken yuvarlağın içini temizce siliniz.

ÖRNEK KODLAMA: ●

### SORU KİTAPÇIĞI İLE İLGİLİ AÇIKLAMA

1. Bu soru kitapçığında; **İLK YARDIM BİLGİSİ dersinden 30, TRAFİK ve ÇEVRE BİLGİSİ dersinden 40, MOTOR ve ARAÇ TEKNİĞİ BİLGİSİ dersinden 20** olmak üzere toplam **90** soru bulunmaktadır. Bu sertifika türü için verilen cevaplama süresi **120 dakikadır.**
2. Her sorunun dört seçeneği vardır. Dört seçenekten sadece bir tanesi doğru cevaptır. Doğru bulduğunuz seçeneği cevap kâğıdında o soru için ayrılan yerde bularak işaretleyiniz. Birden fazla işaretlemelerde o soru yanlış cevaplandırılmış sayılır.
3. Her ders kendi içerisinde **100** puan üzerinden değerlendirilecektir. Başarılı sayılabilmemiz için her dersten -ayrı ayrı- **70 puan** almanız gerekir.
4. Size ayrı bir karalama kâğıdı verilmeyecektir. Soru kitapçığının içindeki boş alanları karalama yapmak için kullanabilirsiniz.
5. Cevabını bilmediğiniz sorular üzerinde fazla zaman kaybetmeden diğer sorulara geçiniz. Zamanınız kalırsa bu sorulara daha sonra dönebilirsiniz.
6. Cevaplarınız puanlanırken her doğru cevaba puan verilecek, yanlış cevaplarınız dikkate alınmayacaktır.
7. Sınavın bitiminde cevap kâğıdınızı ve soru kitapçığınızı salon sorumlularına teslim etmeyi unutmayınız.

Arka sayfadaki açıklamalara geçiniz.

1. Aşağıdakilerden hangisi kaza yerinden ilk önce taşınmalıdır?

- A) Ağır kanamalı olan
- B) Ölmüş olan
- C) Ayağında kırık olan
- D) Orta derecede ezik yarası olan

2. Köprücük kemiği kırıklarında yaralı hangi pozisyonda hastaneye sevk edilir?

- A) Yan yatış
- B) Oturuş
- C) Yüzüstü yatış
- D) Sırtüstü yatış

3. Aşağıdakilerden hangisi koma hâlinin belirtilerindendir?

- A) Bilinçsiz ve hareketsiz uyku hâli
- B) Sorulan sorulara anlamlı cevap verme
- C) Gözleri ile hareket eden cisimleri takip etme
- D) Kötü kokulara karşı burnunu tıkama

4. Tehlikenin olmadığı kaza yerinde, boyun yaralanması olan yaralı hangi uygulamadan sonra araçtan çıkartılır?

- A) Boyun ağrılarını dindirici ilaç verdikten sonra
- B) Boynuna atel bağlanıp, oturur şekilde
- C) Boynuna boyunluk takıldıktan sonra
- D) Boynu sağa doğru bükük ve oturur şekilde

5. Bayılma sırasında aşağıdaki sistemlerden hangisinin faaliyeti durur?

- A) Sindirim sisteminin
- B) Solunum sisteminin
- C) Dolaşım sisteminin
- D) Hareket sisteminin

6. Egzoz gazı zehirlenmesi hangi yolla olur?

- A) Boşaltım yolu ile
- B) Solunum yolu ile
- C) Sindirim yolu ile
- D) Dolaşım yolu ile

7. Aşağıdakilerden hangisi donmaya maruz kalan hastaya uygulanan ilk yardım önlemlerindendir?

- A) Tuzlu ayran içirmek
- B) Soğuk ortamdaki hastayı uzaklaştırmak
- C) Vücuda sıcak ve hızlı masaj yapmak
- D) Hemen uyutularak dinlenmesini sağlamak

8. Aşağıdakilerin hangisinde oluşan kırıklar, felce neden olabilir?

- A) Omurgada
- B) Kaburgada
- C) Bacakta
- D) El bileğinde

9. Hangi durumdaki hastaya, göğüs kemiği 4-5 cm aşağıya inecek şekilde basınç uygulanır?

- A) Kalbi düzensiz çalışan
- B) Kalbi duran
- C) Solunumu düzensiz olan
- D) Solunumu duran

10. Aşağıdakilerden hangisinin yanık yarası üzerine uygulanması doğru olur?

- A) Oksijenli su ile yıkamak
- B) Tentürdiyotlu pamukla kapatmak
- C) Diş macunu sürmek
- D) Temiz, soğuk ve ıslak sargı bezi ile örtmek

11. Aşağıdakilerden hangisi çıkığın tanımıdır?

- A) Eklem bağlarının kopmasıdır.
- B) Eklem bağları ve yüzeylerinin zedelenmesidir.
- C) Eklem yüzeylerinin birbirinden ayrılmasıdır.
- D) Eklem çevresindeki derinin zedelenmesidir.

12. Aşağıdakilerden hangisi sürücüye ait trafik kazası sebebidir?

- A) Seyir hâlinde iken cep telefonu kullanması
- B) Uyarı işaretlerinin yetersiz olması
- C) Aracını kullandığı yolun bozuk olması
- D) Aracının arıza yapması

13. Aşağıdakilerin hangisinde ilk yardım çantasını bulundurmamak zorunludur?

- A) İş makinesinde
- B) Motosiklette
- C) Motorlu bisiklette
- D) Otomobilde

14. Aşağıdaki özelliklerden hangisi ilk yardımcıda mutlaka bulunmalıdır?

- A) Sakin ve tedbirli olmak
- B) Sağlık personeli olmak
- C) Trafik görevlisi olmak
- D) İyi bir sürücü olmak

15. Kaza yapmış bir araçta, devrilme tehlikesi belirgin olarak görülüyor ve araç sallanıyorsa, yaralıları araçtan ne zaman çıkarılmalıdır?

- A) Araç itilerek yavaşça devrilmesi sağlandıktan sonra
- B) Hiç zaman kaybetmeden, hemen
- C) Araç sabit bir hâle getirildikten sonra
- D) Aracın kontak anahtarı kapatıldıktan sonra

16. Trafik kazası gördüğünde gerekli tedbirleri almayan sürücüye aşağıdakilerden hangisi uygulanır?

- A) Ağır hapis cezası
- B) Sürücü belgesinin süresiz geri alınması
- C) Trafikten men cezası
- D) Para ve puan cezası

17. Aşağıdakilerden hangisi solunum durması belirtilerindendir?

- A) Nefes alıp vermenin hızlanması
- B) Kalp atışının hızlanması
- C) Göğüs hareketlerinin olmaması
- D) Göz bebeklerinin küçülmesi

18. Aşağıdakilerden hangisi şokun belirtilerindendir?

- A) Vücut sıcaklığının hızla düşmesi
- B) Cildin kuru ve sıcak olması
- C) Dilin gevşeyerek geriye doğru toplanması
- D) Derinin önce kül rengini alması, sonra da morarması

19. Hangi damar kanaması fışkırır tarzda ve açık kırmızı renkte olur?

- A) Atardamar
- B) Kılcal damar
- C) Toplardamar
- D) Toplardamar ve kılcal damar

20. Bacakta, turnike uygulama bölgesi neresidir?

- A) Diz kapağının olduğu bölge
- B) Diz ile ayak arası
- C) Diz ile kalça arası
- D) Ayak bileğinin alt kısmı

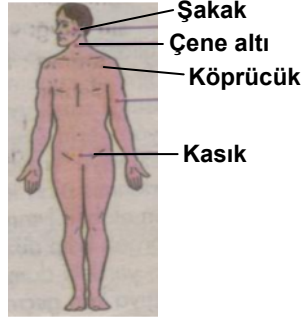
21. Bebeklere suni solunum nasıl yapılır?

- A) Büyüklere uygulandığı gibi
- B) Bebeğin sırtına vurarak
- C) Sırtüstü yatırıp göğüs ve karnına birlikte bastırarak
- D) Ağzına ve burnuna birlikte sık aralıklarla az hava vererek

22. Aşağıdakilerden hangisi ilk yardımın amaçlarındandır?
- A) Bulaşıcı hastalıkların yayılmasını önlemek  
B) Yaralı durumunun kötüye gitmesini önlemek  
C) Yaralıya uygulanacak ilaçları belirlemek  
D) Çevrede bulunan yerleşim birimlerini belirlemek

23. Aşağıdakilerden hangisi tüm vücutta faaliyet gösterir?
- A) Solunum sistemi  
B) Sindirim sistemi  
C) Dolaşım sistemi  
D) Boşaltım sistemi

24. Omuz ve boyundaki kanamalarda, şekilde belirtilen hangi kısma basınç uygulanmalıdır?



- A) Çene altı  
B) Köprücük  
C) Şakak  
D) Kasık

25. Yaralının araçtan çıkarılması esnasında en çok hangisine dikkat edilmelidir?
- A) Hızlı ve aceleci davranmaya  
B) Kaza yapan araca hasar verilmemesine  
C) Kazayı seyredenlerin uzaklaştırılmasına  
D) Yaralıya yeni bir yaralanma meydana gelmemesine

26. Başa alınan darbe sonucu kulaktan kan geliyorsa aşağıdakilerden hangisi uygulanır?
- A) Oturtulup kulağına pamuk tıkanır.  
B) Sırtüstü yatırılarak ayakları yukarı kaldırılır.  
C) Kan akan bölgesi üstte kalacak şekilde yan yatırılır ve kulak pamukla tıkanır.  
D) Kan akan bölgesi altta kalacak şekilde yan yatırılır ve kanama engellenmez.

27. Kırıklar neden tespit edilmelidir?

- A) Kırık kemik uçlarının dokulara zarar vermesini engellemek için  
B) Kırık bölgesinin daha rahat hareket ettirilmesi için  
C) Kırık uçlarının kana karışıp kalbe gitmesini engellemek için  
D) Kırık bölgesine dikkat çekmek için

28. Aşağıdakilerden hangisi, çıkıklarda yapılan ilk yardım uygulamalarıdır?

- A) Hasta, çıkan bölgenin üzerine yatırılır.  
B) Çıkan bölgenin hareketsizliği sağlanarak hemen hekime sevk edilir.  
C) Çıkan bölge ile kalp arasına turnike uygulanır.  
D) Çıkan bölgenin üzerine sıcak masaj yapılır.

29. Merdivenden inerken veya çıkarken sedyedeki hastanın taşınma yönü nasıl olmalıdır?

- A) İnerken başı aşağıda, çıkarken başı yukarıda  
B) İnerken başı yukarıda, çıkarken başı aşağıda  
C) İnerken ve çıkarken başı yukarıda  
D) İnerken ve çıkarken başı aşağıda

30. Tıbbi yardım haberleşmesinde iletilecek mesaj nasıl olmalıdır?

- A) Yazılı, sözlü ve hareketli  
B) Kısa, öz ve anlaşılır  
C) Ayrıntılı, detaylı ve uzun  
D) Şifreli ve gizli

İLK YARDIM BİLGİSİ TESTİ BİTTİ.  
TRAFİK ve ÇEVRE BİLGİSİ TESTİNE GEÇİNİZ.

## 1. GRUP


## TRAFİK ve ÇEVRE BİLGİSİ

## Z

1. Kara yollarında hız sınırı **en yüksek** olan araç cinsi aşağıdakilerden hangisidir?

- A) Minibüs  
B) Otobüs  
C) Otomobil  
D) Kamyonet

2. Şekildeki kara yolunda sürücülerin aşağıdakilerden hangisini yapmaları yasaktır?

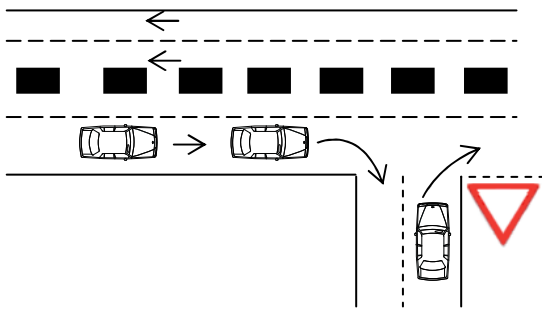


- A) Gidiş yönüne göre sağ şeritten gitmeleri  
B) Trafik zorunluluğu nedeniyle durmaları  
C) Her iki aracın aynı şeritte seyretmeleri  
D) Gidiş yönüne göre sol şeridi geçiş amaçlı kullanmaları

3. Aşağıdakilerin hangisinde dönüş ışıklarının kullanılması yasaktır?

- A) Şerit değiştirmelerde  
B) Park yerlerine giriş ve çıkışlarda  
C) Kavşaklarda sağa ve sola dönüşlerde  
D) Sürücülere geç mesajının verilmesinde

4. Sağa dönüş yapmak isteyen şekildeki sürücülerin hangisini yapmaları **yanlıştır**?



- A) Dönüşlerini en sol şeritte tamamlamaları  
B) Hızlarını azaltmaları  
C) Dar bir kavisle dönüş yapmaları  
D) Buldukları şeritte en sağa yaklaşmaları

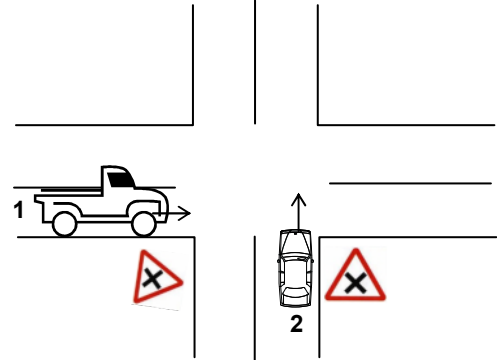
5. Bir kavşakta kendisine yeşil ışık yanmakta iken diğer doğrultudaki araçların geçişine engel oluşturacağını fark eden bir sürücü ne yapmalıdır?

- A) Yoluna devam etmelidir.  
B) Kesinlikle kavşağa girmemelidir.  
C) Acil uyarı ışıklarını yakmalıdır.  
D) Sağa dönüş yaparak yoluna devam etmelidir.

6. Aşağıdakilerden hangisi geçiş üstünlüğüne sahiptir?

- A) Çekici  
B) Gümrük muhafaza aracı  
C) İş makinesi  
D) Cankurtaran

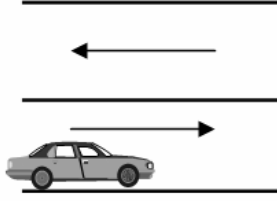
7. Şekle göre, 1 ve 2 numaralı taşıt sürücüleri hangisini yapmak zorundadır?



- A) Her ikisi de durduktan sonra geçmelidir.  
B) Her ikisi de taşıtlarının hızını azaltmalıdır.  
C) 1 numaralı taşıt sürücüsü hızını artırmalıdır.  
D) 2 numaralı taşıt sürücüsü hızını artırmalıdır.

**1. GRUP****TRAFİK ve ÇEVRE BİLGİSİ****Z**

8. Şekildeki park etmiş aracın hangi tarafında duraklama yapılamaz?



- A) Arkasında  
B) Önünde  
C) Her iki yönünde 50 metre mesafede  
D) Yol tarafındaki yanında

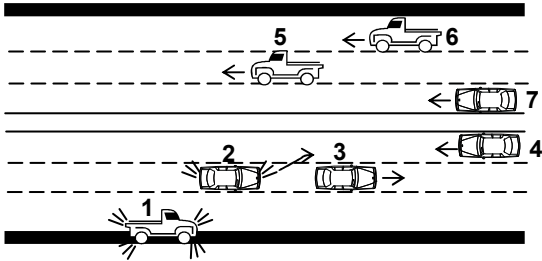
9. Maddi hasarlı kazalarda, taraflar anlaşmaları hâlinde ne yapmalıdırlar?

- A) Kaza tespit tutanağı düzenlemelidirler.  
B) Anlaşmalarını yazılı olarak tesbit etmelidirler.  
C) Kendi sigorta şirketlerine durumu bildirmelidirler.  
D) Anlaşma metnini ilgili trafik kuruluşuna vermelidirler.

10. Geceleyin öndeki aracı yakından takip ederken hangi ışıkları yakmak zorunludur?

- A) Park ışıklarını  
B) Sis ışıklarını  
C) Yakını gösteren ışıkları  
D) Uzağı gösteren ışıkları

11. Şekildeki kara yolu bölümünde, hangi numaralı taşıt sürücülerinin yaptığı asli kusur hâllerinden sayılır?



- A) Yalnız 4  
B) 1 ve 7  
C) 1, 3 ve 6  
D) 2, 5, 6 ve 7

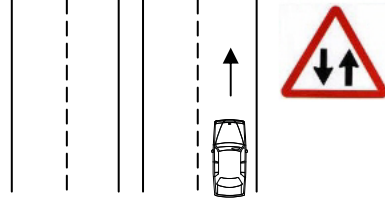
12. A2 sınıfı sürücü belgesi olan aşağıdakilerden hangisini kullanabilir?

- A) Otobüs  
B) Motorlu bisiklet  
C) Kamyon  
D) Minibüs

13. Trafiğe çıkan araçta tescil belgesi ile birlikte hangisinin bulunması gerekir?

- A) Noter satış belgesinin  
B) Trafik belgesinin  
C) İşletme belgesinin  
D) Kara yolu uygunluk belgesinin

14. Şekildeki işaret levhası sürücüyü neyi bildirir?



- A) İki yönlü ve iki şeritli yol kesimine yaklaştığını  
B) Bölünmüş yola gireceğini  
C) İleride kontrolsüz bir kavşağın olduğunu  
D) Tali yol kavşağına yaklaştığını

15. Sürücünün hangi davranışı çevreyi olumlu etkiler?

- A) Aracının bakımını zamanında yaptırması  
B) Aracında ucuz ve kalitesiz yakıt kullanması  
C) Aracını gereksiz yere çalışır hâlde tutması  
D) Aracının eski parçalarını çevreye atması

**1. GRUP****TRAFİK ve ÇEVRE BİLGİSİ****Z**

16. Çevreye boşaltıldığında bozulma meydana getirecek maddelere ne ad verilir?

- A) Yanıcı madde      B) Yakıcı madde  
C) Atık                      D) Kireç

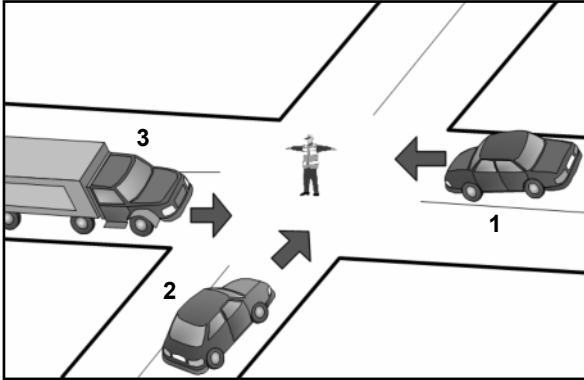
17. Işıklı trafik cihazlarıyla birlikte ışıklı ok da varsa, ok yönündeki dönüş ne zaman yapılır?

- A) Ok söndüğünde  
B) Ok kırmızı yandığında  
C) Ok yeşil yandığında  
D) Ok sarı yandığında

18. Aşağıdakilerden hangisi trafik genel eğitim planını hazırlayıp uygulamakla görevlidir?

- A) Yükseköğretim Kurulu  
B) Ulaştırma Bakanlığı  
C) Trafik Hizmetleri Başkanlığı  
D) Millî Eğitim Bakanlığı

19. Şekildeki araçlardan hangisi ya da hangileri beklemelidir?



- A) 2                              B) 3  
C) 1 ve 2                      D) 1 ve 3

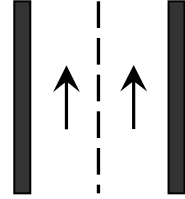
20. Kontrolsüz demir yolu geçidine yaklaşan sürücüler nasıl hareket etmelidirler?

- A) Hızlarını artırarak geçmelidirler.  
B) Demir yolu tek hatlı ise hızlı bir şekilde geçmelidirler.  
C) Demir yolu çok hatlı ise yavaş ve dikkatli geçmelidirler.  
D) Makul bir mesafede mutlaka durmalıdırlar.

21. Aşağıdakilerden hangisi duraklama sayılır?

- A) Trafik görevlisinin dur işaretine uymak  
B) Kırmızı ışıkta beklemek  
C) Yolcu indirmek ve bindirmek  
D) Öndeki aracın durması nedeni ile beklemek

22. Şekildeki kara yoluna ne ad verilir?

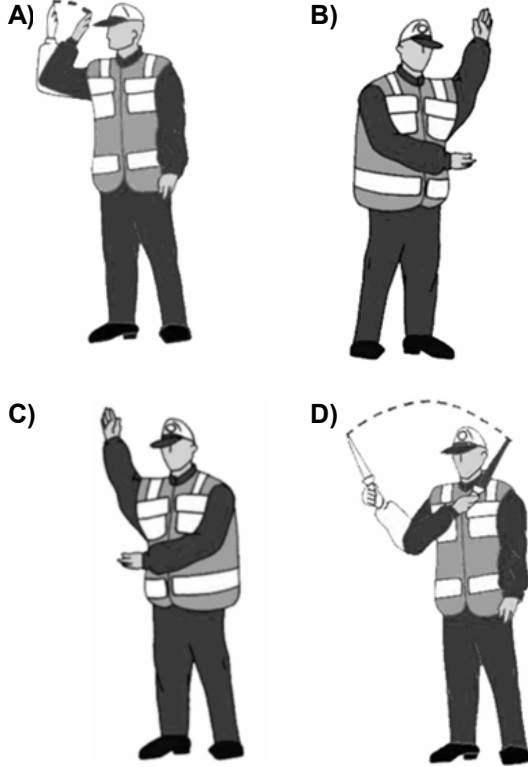


- A) Tek yönlü kara yolu  
B) İki yönlü kara yolu  
C) Bölünmüş kara yolu  
D) Erişme kontrollü kara yolu

23. Bir aracın yolcu indirmek amacıyla kısa süreli durdurulmasına ne ad verilir?

- A) Park etme                      B) Durma  
C) Duraklama                      D) Bekleme

24. Trafik görevlisinin hangi hareketi seri bir şekilde yapması "trafiğin hızlanması" talimatıdır?



25. Çok şeritli yollarda gidişe ayrılan şeritlerden hangisi devamlı olarak işgal edilemez?

- A) En sağdaki
- B) Ortadaki
- C) En soldaki
- D) Orta ile en sağdaki

26. Yerleşim yerleri içinde kavşaklara kaç metre kala şerit değiştirmek yasaktır?

- A) 30
- B) 40
- C) 50
- D) 60

27. Seyir hâlinde iken öndeki aracı takip mesafesi en az ne kadar olmalıdır?

- A) Araç boyunun iki katı
- B) Araç hızının yarısı
- C) Araç hızı kadar
- D) Araç ağırlığının üç katı

28. Şekildeki trafik işareti neyi ifade eder?



- A) Sola dönmenin yasaklandığını
- B) Kaygan yola yaklaşıldığını
- C) Sola tehlikeli dönmece yaklaşıldığını
- D) Sol taraftan tek yönlü yola gireceğini

29. Şekildeki trafik işaretinin anlamı nedir?



- A) Sağa dönülmez
- B) Sola zorunlu yön
- C) Sağa zorunlu yön
- D) Sola dönülmez

30. Aşağıdakilerden hangisi araç geçme işleminin son basamağıdır?

- A) Geriyi görüş aynasından geçilmekte olan aracı izlemek
- B) Sağa dönüş lambasıyla işaret vermek
- C) Sağ şeride girmek
- D) Takip mesafesi kadar önceden sol şeride girmek

31. Kontrolsüz kavşağa giren sürücü, sola dönüşe geçtiği sırada, geçiş hakkını kime vermek zorundadır?

- A) Arkadan gelen ve sağa dönmek isteyen araçlara
- B) Soldan gelen araçlara
- C) Arkadan gelen ve sola dönmek isteyen araçlara
- D) Karşıdan gelen ve emniyetle duramayacak kadar yaklaşmış araçlara



## 1. GRUP

## TRAFİK ve ÇEVRE BİLGİSİ

Z

32. Şekildeki trafik işareti aşağıdakilerden hangisine yaklaşıldığını bildirir?



- A) Kontrollü demir yolu geçidine
- B) Kontrolsüz demir yolu geçidine
- C) Demir yolu alt geçidine
- D) Demir yolu üst geçidine

33. Aşağıdakilerden hangisine yaya, hayvan ve motorsuz araçların girmesi yasaktır?

- A) Ana yola
- B) Bölünmüş kara yoluna
- C) Tali yola
- D) Otoyola

34. Aşağıdaki araçlardan hangisi iş makinesidir?

- A) Kamyon
- B) Biçerdöver
- C) Otobüs
- D) Minibüs

35. Aşağıdaki trafik işaretlerinden hangisi dönel kavşağa yaklaşıldığını bildirir?

- A)
- B)
- C)
- D)

36. Şekildeki trafik işaretini gören sürücünün hangisini yapması yanlıştır?

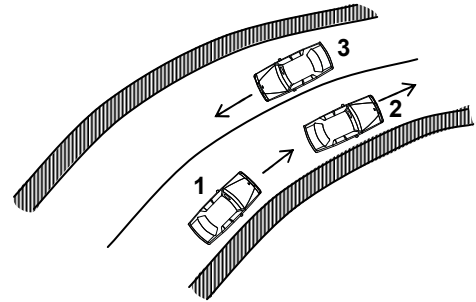


- A) Aracını yavaşlatması
- B) Yolu kontrol etmesi
- C) O bölgeden dikkatli geçmesi
- D) Takip mesafesini azaltması

37. Aşağıdakilerden hangisi azami hız sınırlaması anlamındadır?

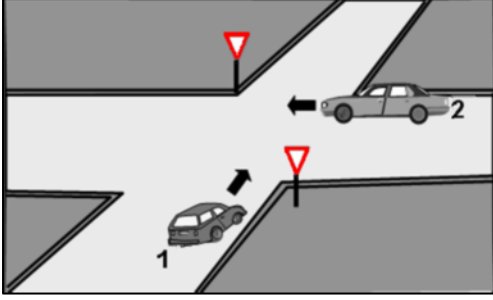
- A)
- B)
- C)
- D)

38. Şekle göre aşağıdakilerden hangisinin yapılması yasaktır?



- A) 1. aracın 2. araca takip mesafesince yaklaşması
- B) 1. aracın 2. aracı geçmeye çalışması
- C) 3. aracın dönemece girerken hızını azaltması
- D) 2. aracın dönemece girerken hızını azaltması

39. Şekildeki 1 numaralı araç sürücüsü ne yapmalıdır?



- A) 2 numaralı araca yol vermelidir.
- B) Korna çalıp 2 numaralı aracı durdurmalıdır.
- C) Hızını arttırarak kavşağa önce girmelidir.
- D) Geçiş hakkını kendi kullanmalıdır.

40. Aşağıdakilerden hangisine koltuk ferdi kaza sigortası yaptırılması zorunludur?

- A) Otomobil
- B) Çekici
- C) Otobüs
- D) Kamyonet

TRAFİK ve ÇEVRE BİLGİSİ TESTİ BİTTİ.  
MOTOR ve ARAÇ TEKNİĞİ BİLGİSİ TESTİNE  
GEÇİNİZ.

1. Yağ çubuğunun görevi aşağıdakilerden hangisidir?

- A) Motor yağı seviyesini gösterir.
- B) Hidrolik seviyesini gösterir.
- C) Antifriz seviyesini gösterir.
- D) Asit seviyesini gösterir.

2. Motosiklette, fazla yakıt sarfiyatı sonucu egzoz dumanı ne renk olur?

- A) Mavi
- B) Sarı
- C) Siyah
- D) Beyaz

3. Benzinle havayı belirli oranda karıştıran yakıt sistemi elemanı aşağıdakilerden hangisidir?

- A) Yakıt pompası
- B) Hava filtresi
- C) Karbüratör
- D) Supap

4. Bir motosikletin egzoz dumanı siyah renkte çıkıyorsa, aşağıdakilerden hangisine bakılır?

- A) Yağ seviyesine
- B) Soğutma suyuna
- C) Vantilatöre
- D) Hava filtresine

5. Motor karterindeki yağ seviyesi normalin çok altında iken motor çalıştırılırsa ne olur?

- A) Motor çok soğur.
- B) Motor yakıtına yağ karışır.
- C) Motor suyuna yağ karışır.
- D) Motor ısınır, yanar.

6. Aşağıdakilerden hangisi aktarma organı elemanıdır?

- A) Diferansiyel
- B) Akümülatör
- C) Amortisör
- D) Rot

7. Kullanma kılavuzuna göre, belli kilometre sonunda araçta aşağıdakilerden hangisi değiştirilmelidir?

- A) Direksiyon simidi
- B) Yağ filtresi
- C) Radyatör
- D) Dikiz aynaları

8. Motosiklette viteslere geçişte zorluk çekiliyorsa, sebebi aşağıdakilerden hangisidir?

- A) Emme manifoldu hava alıyordur.
- B) Kavrama ayırmıyordur.
- C) Egzoz supabı arızalıdır.
- D) Emme supabı arızalıdır.

9. Motosikletin kampanası aşırı derecede ısınmışsa, bunun sebebi aşağıdakilerden hangisidir?

- A) Diferansiyel ayarı bozuktur.
- B) Vites kutusu ayarı bozuktur.
- C) Fren ayarı bozuktur.
- D) Motor ayarı bozuktur.

10. Akümülatörün bakımında aşağıdakilerden hangisi yapılır?

- A) Suyu boşaltılıp yağlanır.
- B) Suyu boşaltılıp içi temizlenir.
- C) Plakaları temizlenir.
- D) Kutup başlarının oksitleri temizlenir.

11. Yakıttan elde ettiği ısı enerjisini mekanik enerjiye çeviren makinelere ne denir?

- A) Dinamo
- B) Motor
- C) Vites kutusu
- D) Diferansiyel

12. Motorda aşağıdaki ayarlardan hangisi yapılır?

- A) Supap
- B) Kavrama
- C) Rot
- D) Rotil

13. Motorlar zamanlarına göre nasıl sınıflandırılırlar?

- A) Bir ve üç zamanlı
- B) Bir ve dört zamanlı
- C) İki ve dört zamanlı
- D) İki ve beş zamanlı

14. Aşağıdakilerden hangisi motorun parçasıdır?

- A) Karter
- B) Amortisör
- C) Tekerlek
- D) Rot

15. Aracın hangi sistemindeki kaçak, akümülatörün kendiliğinden boşalmasına neden olur?

- A) Yakıt sistemindeki
- B) Yağlama sistemindeki
- C) Elektrik sistemindeki
- D) Soğutma sistemindeki

16. Aşağıdakilerden hangisi bujilere ateşleme sırasına göre akım dağıtır?

- A) Distribütör
- B) Karbüratör
- C) Konjektör
- D) Akümülatör

17. Aşağıdakilerden hangisi benzinli motorda normal yanma olmamasının sebeplerindendir?

- A) Radyatör peteklerinin tıkanması
- B) Hava filtresinin kirli olması
- C) Vantilatör kayışının gevşek olması
- D) Su pompasının arızalanması

18. Hava soğutmalı benzinli motorda aşağıdaki parçalardan hangisi yoktur?

- A) Radyatör
- B) Akümülatör
- C) Silindir kapağı
- D) Buji

19. Dizel motorlar hangi prensibe göre çalışır?

- A) Sıkıştırılmış hava-benzin karışımı bujiyle ateşleme
- B) Sıkıştırılmış hava-mazot karışımı bujiyle ateşleme
- C) Sıkıştırılmış hava üzerine benzin püskürtme
- D) Sıkıştırılmış hava üzerine mazot püskürtme

20. Aşağıdakilerden hangisi silindir bloğunun görevidir?

- A) Motorlarda bulunan suyu soğutmak
- B) Krank miline yataklık yapmak
- C) Motor yağını soğutmak
- D) Vites dişlilerine yataklık yapmak

TEST BİTTİ.

CEVAPLARINIZI KONTROL EDİNİZ.

### SINAV SIRASINDA UYULACAK KURALLAR

1. Sınavın başladığı andan itibaren, salon görevlilerinin tüm uyarılarına uymak zorundasınız.
2. Sınav başladıktan sonra görevlilerle konuşmanız ve soru sormanız yasaktır.
3. Sınav sırasında kopya çeken, çekmeye teşebbüs eden, kopya veren ya da kopya çekilmesine yardım eden adayların kimlikleri sınav tutanağına yazılacak ve sınavları geçersiz sayılacaktır. Ayrıca bu kişiler ilk 45 dakika sonunda salondan çıkarılacaktır.
4. Sınavda kurallara ve uyarılara uymayanların kimlikleri tutanakla tespit edilecek ve sınavları geçersiz sayılacaktır.
5. Sınav başladıktan sonra adayların birbirleriyle konuşmaları, kalem, silgi vb. şeyleri istemeleri yasaktır.
6. Sınav sırasında sigara, çay vb. içilmez.
7. Sınavın başladığı belirtilmeden soru kitapçıkları açılmaz ve cevaplandırma yapılamaz.
8. Sınav sonrası sınav giriş belgesini, soru kitapçığını ve cevap kâğıdını mutlaka salon görevlilerine teslim ediniz. Sınav evraklarını teslim etmeyen, soru kitapçıklarının sayfalarından bir kısmını eksik teslim edenlerin sınavları geçersiz sayılacak, ayrıca haklarında yasal işlem yapılacaktır.

Soracağınız bir şey var mı? Varsa, şimdi sorunuz; sınav başladıktan sonra sorularınıza cevap verilmeyecektir. Hazır mısınız? Sınav, okulun bütün salonlarında aynı anda başlayacağı için başlama zilini beraberce bekleyelim. Hepinize başarılar dileriz.  
(Salon başkanı başlama ve bitiş saatini tahtaya yazacaktır.)

**Bu testin her hakkı saklıdır. Hangi amaçla olursa olsun, testlerin tamamının veya bir kısmının Millî Eğitim Bakanlığı Eğitim Teknolojileri Genel Müdürlüğü'nün yazılı izni olmadan kopya edilmesi, fotoğraflarının çekilmesi, bilgisayar ortamına alınması, herhangi bir yolla çoğaltılması, yayımlanması veya başka bir amaçla kullanılması yasaktır. Bu yasağa uymayanlar, doğabilecek cezaî sorumluluğu ve testlerin hazırlanmasındaki malî külfeti peşinen kabullenmiş sayılır.**

**BAŞLAYINIZ DENİLMEYEN SORU KİTAPÇIĞINI AÇMAYINIZ.**